



மாகாணக் கல்வித் திணைக்களம் – வடமாகாணம்

க.பொ.த. சாதாரண தரப்பரீட்சை

இரண்டாந் தவணை – 2018



புவியியல் I, II

61

T

I, II

புவியியல் II

- ❖ இவ்வினாத்தாள் I, II என்னும் இரண்டு பகுதிகளைக் கொண்டுள்ளது
- ❖ பகுதி I இலுள்ள வினா கட்டாயமானது. அதில் (அ), (ஆ), (இ) ஆகிய மூன்று பிரிவுகளுக்கும் விடை எழுதுதல் வேண்டும்.
- ❖ பகுதி II இலிருந்து நான்கு வினாக்களுக்கு விடை எழுதுதல் வேண்டும்
- ❖ எல்லாமாக ஐந்து வினாக்களுக்கு விடை எழுத வேண்டும்.

பகுதி – I

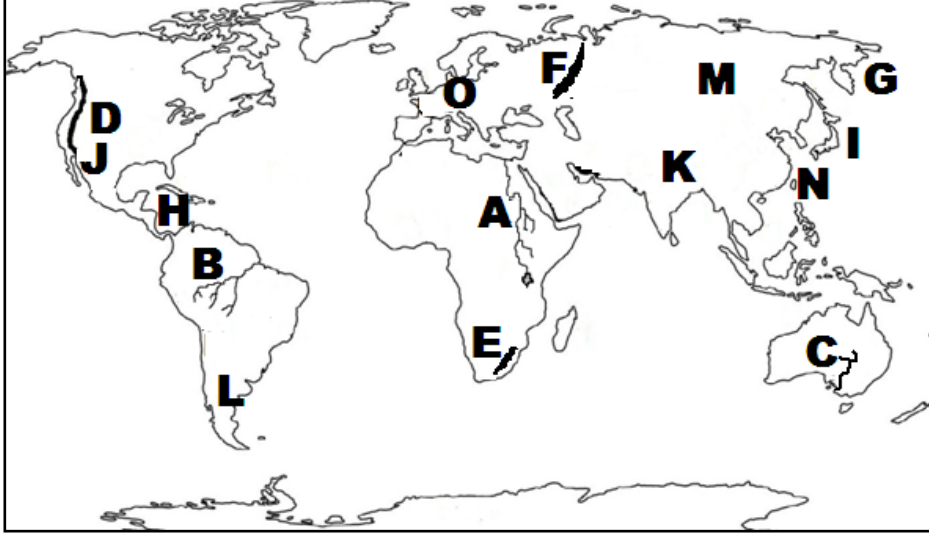
01. (அ)

- ◆ தரப்பட்ட இடவிளக்கப் படத்தின் உதவியுடன் பின்வரும் வினாக்களிற்கு விடையளிக்குக.
 - i. தரப்பட்ட இடவிளக்கப் படத்தில் இலக்கம் 1 எனக்காட்டப்பட்ட அம்சம்
(மலை/ பள்ளத்தாக்கு/ புகலரண்)
 - ii. தரப்பட்ட இடவிளக்கப் படத்தில் இலக்கம் 2 இனால் குறித்து காட்டப்பட்ட நிர்வாக எல்லை
(மாவட்டம்/ நகரஎல்லை/ மாகாணம்)
 - iii. தரப்பட்ட இடவிளக்கப் படத்தில் இலக்கம் 3 இனால் குறித்துக் காட்டப்பட்ட அம்சம்
(சுவடு/ ஆறு / பள்ளத்தாக்கு)
 - iv. தரப்பட்ட இடவிளக்கப்படத்தில் இலக்கம் 4 இனால் குறித்துக் காட்டப்பட்டுள்ள அம்சம்
(நெல் / இறப்பர்/ காடுகள்)
 - v. தரப்பட்ட இடவிளக்கப்படத்தில் 5 எனும் சதுரத்தினுள் அடக்கப்படும் அம்சம்
(வெளி அரும்புப் பாறை/ கூம்புக் குன்று/ கணவாய்)
- ◆ பின்வரும் வினாக்களிற்கு சரியான விடையளிக்குக.
 - vi. தரப்பட்ட இடவிளக்கப்படம் அமைந்துள்ள மாகாணங்களுள் ஒன்றினைக் குறிப்பிடுக.
 - vii. இப் பிரதேசத்திற்கு நீர் வழங்கும் பிரதான மூலமாக அமைந்துள்ளது எது?
 - viii. இப் பிரதேசத்தின் சிறப்பம்சம் ஒன்று தருக?
 - ix. இப் பிரதேசத்தில் சிறப்பாக அபிவிருத்தி செய்யக்கூடிய கைத்தொழில் துறைஎது?
 - x. இப் பிரதேசத்தின் வடமேற்கு முலைப்பகுதியில் பயிரிடப்பட்டுள்ள பயிர் எது?

(10×1= 10 புள்ளிகள்)

(ஆ)

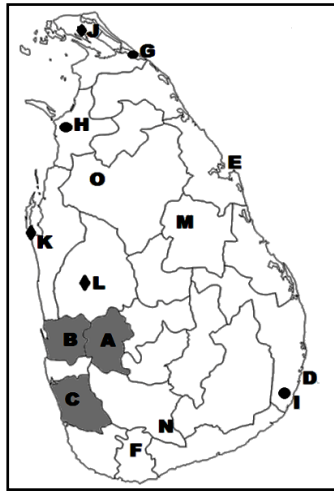
◆ தரப்பட்ட உலகப்படத்தின் உதவியுடன் பின்வரும் வினாக்களுக்கு விடையளிக்குக.



- i. A, B, C, எனத் தரப்பட்ட எழுத்துக்களில் இருந்து அமேசன் நதியைக் குறிக்கும் எழுத்து.
- ii. D, E, F, எனத் தரப்பட்ட எழுத்துக்களில் இருந்து யூரல் மலையைக் குறிக்கும் எழுத்து.
- iii. G, H, I, எனத் தரப்பட்ட எழுத்துக்களில் இருந்து கரீபியன் கடலைக் குறிக்கும் எழுத்து.
- iv. J, K, L, எனத் தரப்பட்ட எழுத்துக்களில் மத்தியதரைக்கடல் பகுதி தவிர்ந்த தோடம்பழப் பயிர்ச்செய்கை நடைபெறும் பகுதியைக் குறிக்கும் எழுத்து.
- v. M, N, O, எனத் தரப்பட்ட எழுத்துக்களில் புதிதாக வளர்ச்சியடைந்த கைத்தொழில் நாடான தாய்வானைக் குறிக்கும் எழுத்து.

(5×1= 5புள்ளிகள்)

◆ தரப்பட்ட இலங்கைப் படத்தின் உதவியுடன் பின்வரும் வினாக்களிற்கு விடையளிக்குக.



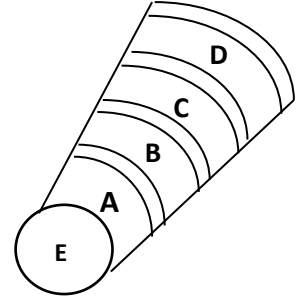
- i. A, B, C எனத் தரப்பட்ட எழுத்துக்களில் இறப்பர் பயிர்ச்செய்கை அதிகம் இடம்பெறும் களுத்துறை மாவட்டத்தைக் குறிக்கும் எழுத்து.
- ii. D, E, F எனத் தரப்பட்ட எழுத்துக்களில் வெலிகம குடாவினைக் குறிக்கும் எழுத்து.

- iii. G, H, I எனத் தரப்பட்ட எழுத்துக்களில் சுண்டிக்குளம் சரணாலயத்தைக் குறிக்கும் எழுத்து.
- iv. J, K, L எனத் தரப்பட்ட எழுத்துக்களில் நுரைச்சோலை அனல்மின் நிலையம் அமைந்துள்ள மாவட்டத்தைக் குறிக்கும் எழுத்து.
- v. M, N, O, எனத் தரப்பட்ட எழுத்துக்களில் உடவளவை நீர்த்தேக்கம் அமைந்துள்ள நதிப்பள்ளத்தாக்கினை குறிக்கும் எழுத்து.

(5×1= 5புள்ளிகள்)

பகுதி II

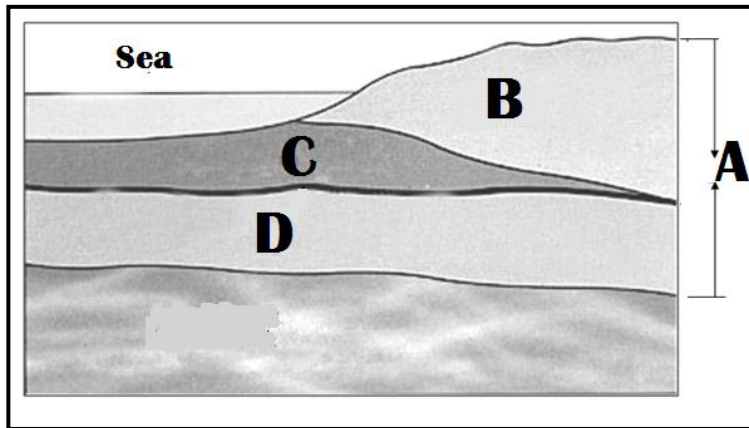
02. i. தரப்பட்ட வரை படத்தில் A,B,C,D எனக் குறிக்கப்பட்ட வளிமண்டலப் படைகளைத் தருக.



- ii. a) B மண்டலத்தில் அமைந்துள்ள விசேட படைப் பகுதி எது?
b) அதனைப் பாதிக்கும் இரண்டு வாயுக்கள் எவை?
- iii. மேலே குறிப்பிட்ட விசேட படையின் பாதுகாப்பிற்காக மேற்கொள்ளக்கூடிய மூன்று வழி முறைகளைக் குறிப்பிட்டு அப்படையின் முக்கியத்துவத்தை சுருக்கமாக விளக்குக?

(2+3+5= 10புள்ளிகள்)

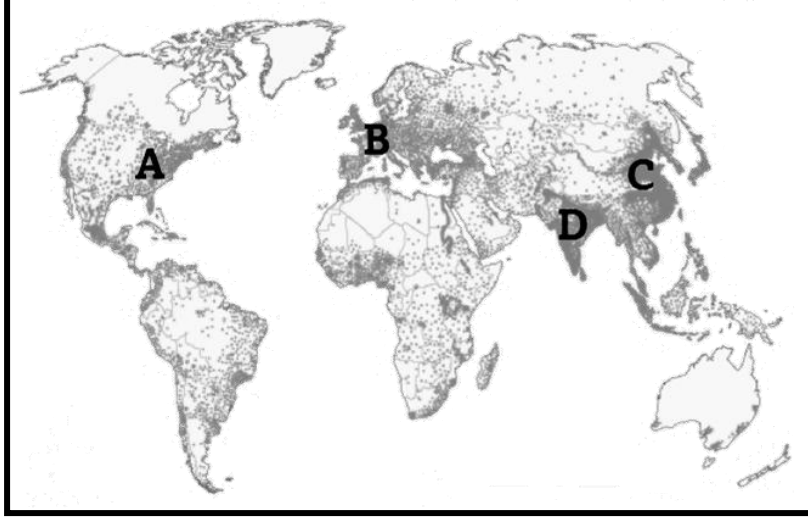
03. i. தரப்பட்ட வரைபடத்தில் A,B,C,D எனக் குறிக்கப்பட்ட பகுதிகளைப் பெயரிடுக



- ii. a) C, D ஆகிய பகுதிகளை பிரிக்கும் எல்லையின் பெயர் என்ன?
b) B படையின் சிறப்பியல்புகள் இரண்டு தருக?
- iii. புவிமையத்தின் சிறப்பம்சங்களில் மூன்றினை குறிப்பிட்டு அவற்றுள் ஒன்றைப் பற்றி சுருக்கமாக விளக்குக?

(2+3+5= 10புள்ளிகள்)

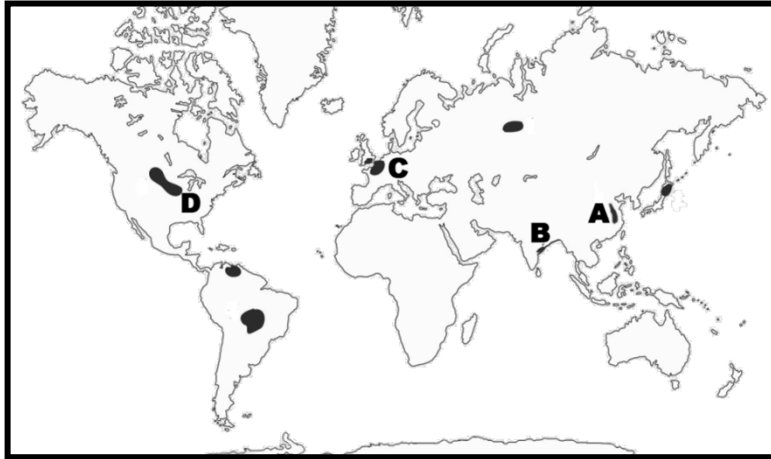
04.



- i. உலகின் அதிக குடித்தொகை அடர்த்தி கொண்ட வடகிழக்கு அமெரிக்கப் பகுதி, வடமேற்கு ஐரோப்பாவின் பகுதி ஆகியவற்றைக் குறிப்பிடும் எழுத்துக்கள் எவை?
- ii. a) உலகில் மிகக் குறைந்த குடித்தொகை கொண்ட பகுதி ஒன்றினைக் குறிப்பிடுக.
b) அப்பகுதியின் குடித்தொகை அடர்த்தி குறைவாக அமைவதற்கான இரண்டு காரணங்களைக் குறிப்பிடுக?
- iii. உலகின் குடித்தொகை அடர்த்தியைத் தீர்மானிக்கும் மூன்று காரணங்களைக் குறிப்பிட்டு அவற்றுள் ஒன்றினைச் சுருக்கமாக விளக்குக?

(2+3+5= 10புள்ளிகள்)

05.

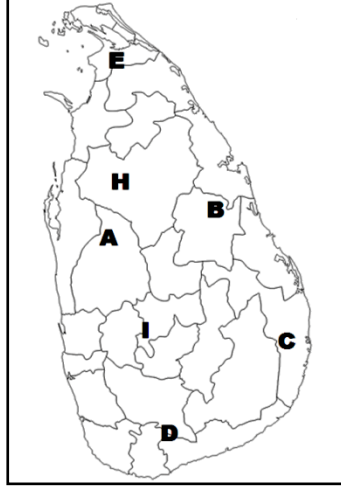


- i. உலகின் இரும்புருக்கு கைத்தொழில் நடைபெறும் A, B எனக் குறிப்பிட்ட இடங்களைக் குறிப்பிடுக?
- ii. a) உலகில் இரும்புருக்கு உற்பத்தியில் இரண்டாவது இடத்தினை வகிக்கும் நாடு எது?
b) இரும்புருக்கு கைத்தொழில் மூலம் ஏற்படும் விளைவுகள் இரண்டினைக் குறிப்பிடுக?
- iii. ஓரிடத்தின் கைத்தொழில் பரம்பலைத் தீர்மானிக்கும் மூன்று காரணங்களைக் குறிப்பிட்டு அவற்றுள் ஒன்றினைச் சுருக்கமாக விளக்குக?

(2+3+5= 10புள்ளிகள்)

06.i. A,B,C.D எனக் குறிப்பிட்டுள்ள இலங்கையின் குளங்கள், நீர்த்தேக்கங்களை அடைப்புக் குறியினுள் இருந்து தெரிவு செய்து எழுதுக?

(கொத்மலை, கலாவாவி, சேனநாயக சமுத்திரம், உடவளவை, திஸ்ஸவாவி, பராக்கிரம சமுத்திரம்)



ii. a) இலங்கையில் உள்ள நதிகளின் எண்ணிக்கை எவ்வளவு?

b) நீரின் இரண்டு பயன்பாடுகளைக் குறிப்பிடுக?

iii. நீரினைப் பயன்படுத்தும் போது ஏற்படும் மூன்று பிரச்சினைகளைக் குறிப்பிட்டு அவற்றுள் ஒன்றினைச் சுருக்கமாக விளக்குக?

(2+3+5= 10புள்ளிகள்)

07. i. அபிவிருத்தி என்றால் என்ன?

ii. a) அபிவிருத்தியை அளவிட உதவிய பழைய சுட்டி ஒன்றினைக் குறிப்பிடுக?

b) அபிவிருத்தியை அளவிடும் புதிய சுட்டிகள் இரண்டினைத் தருக?

iii. அபிவிருத்தி நடவடிக்கைகளால் ஏற்படும் மூன்று சூழல் பாதிப்புகளை குறிப்பிட்டு அவற்றிற்கு தீர்வாக நிலைத்திருக்கும் அபிவிருத்திக்கான இரண்டு வழிமுறைகளைத் தருக?

(2+3+5= 10புள்ளிகள்)

08. i. இலங்கையில் காற்றுச் சக்தி நிலையங்கள் காணப்படும் இடங்கள் இரண்டினைக் குறிப்பிடுக?

ii. a) இலங்கையில் பாவனையில் இருக்கும் வலுவளங்கள் இரண்டினைத் தருக?

b) சூழலுக்கு நன்மை தரும் வலுவளம் ஒன்றினைக் குறிப்பிடுக?

iii. வலுவளங்களைப் பாதுகாக்க வேண்டியதன் மூன்று முக்கியத்துவத்தைக் குறிப்பிட்டு அவற்றுள் ஒன்றினைப் பற்றி விளக்குக?

(2+3+5= 10புள்ளிகள்)